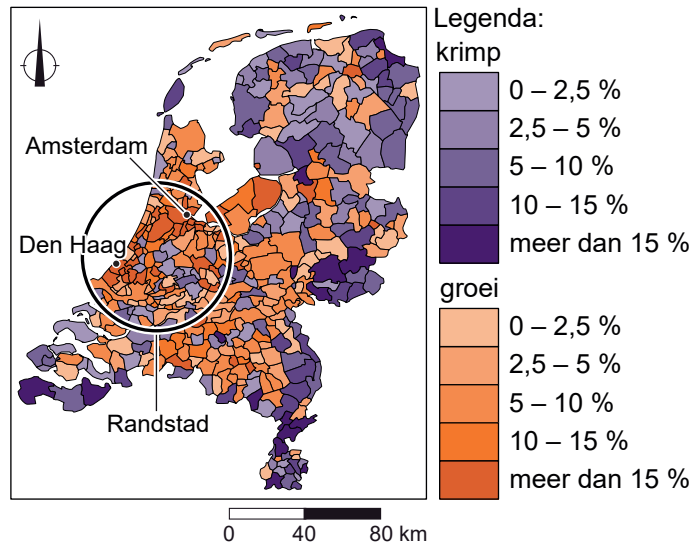


Bevolking en ruimte

- 1p 32 In sommige Nederlandse gemeenten is er bevolkingsgroei door een geboorteoverschot.
→ Noem nog een andere demografische oorzaak waardoor de bevolking groeit in sommige Nederlandse gemeenten.

bron 31

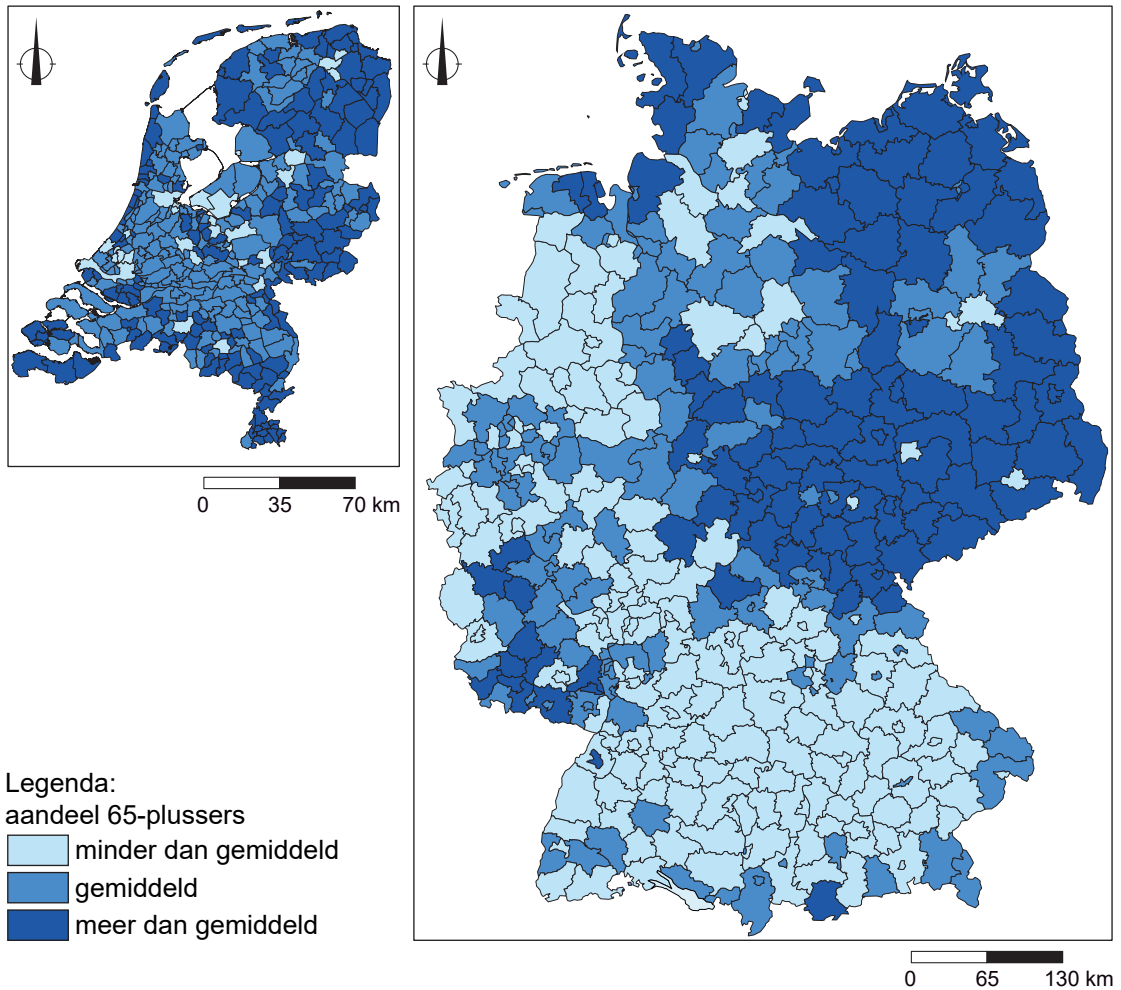
Verwachte bevolkingsontwikkeling van Nederland per gemeente tussen 2012 en 2040



- 1p 33 Bekijk bron 31.
De verwachting is dat de bevolking in sommige delen van Nederland zal afnemen.
→ Beredeneer in welk deel van Nederland de bevolking zal afnemen.
Doe het zo:
- Kies eerst of de bevolking afneemt in **de Randstad** of **langs de randen van Nederland**.
 - Geef daarna aan waardoor de bevolking daar afneemt.
- 2p 34 Bekijk bron 31.
Naar aanleiding van bron 31 worden drie uitspraken gedaan.
Uitspraak 1: de bevolking van de gemeenten Amsterdam en Den Haag zal tot 2040 met meer dan 15% groeien.
Uitspraak 2: de verstedelijking van Nederland neemt naar verwachting tot 2040 toe.
Uitspraak 3: door de toenemende congestie zal de bereikbaarheid van de Randstad toenemen.
→ Neem de cijfers 1, 2 en 3 van de uitspraken over op het antwoordblad en zet erachter of de uitspraak juist of onjuist is.

bron 32

Aandeel 65-plussers in de bevolking van Duitsland en Nederland, 2019



2p 35 Bekijk bron 32.

In Nederland en in Duitsland is er vergrijzing. Over bron 32 worden drie uitspraken gedaan.

Uitspraak 1: in Duitsland vergrijst het westen meer dan het oosten.

Uitspraak 2: in Nederland vergrijzen vooral gebieden langs de randen.

Uitspraak 3: stedelijke gebieden in Nederland en Duitsland vergrijzen het meest.

→ Neem de cijfers 1, 2 en 3 van de uitspraken over op het antwoordblad en zet erachter of de uitspraak juist of onjuist is.

bron 33

Landschaftspark Duisburg-Nord



Legenda:

— route van de Industrie-cultuur (hoofdroute)

■ bezoekerscentrum

⬆ arbeiderswijk

uitzichtspunt:

⊕ televisietoren

⚙ voormalige stortberg

🏞 panorama bij het Ruhrdal

de 26 ankerpunten:

🏛 museum

🏠 cultuurcentrum

voormalig industriegebouw

⚙ hoogoven

⚙ mijn

🏭 cokesoven

🏭 watertoren

🏭 scheepslift

🏭 gashouder

🏭 fabriek

🏭 haven

⚡ elektriciteitscentrale

🏭 chemische fabriek

🏠 ondernemersvilla

0 9 18 km

In het Landschaftspark Duisburg-Nord vond tussen 24 en 26 september 2021 het muziekfestival 'Traumzeit' plaats. Een festivalticket inclusief kamperen is gratis in het Landschaftspark.

1p **36** Gebruik bron 33.

Het Landschapspark Duisburg-Nord heeft nu een andere functie dan vroeger. Hier staan in willekeurige volgorde enkele gebeurtenissen in de geschiedenis van Duisburg-Nord sinds de opkomst van de staalindustrie:

P - Het aantal banen in de cultuursector Duisburg-Nord neemt toe.

Q - Het aantal banen in de staalindustrie in Duisburg-Nord neemt af.

R - De staalindustrie verplaatst zich naar lagelonenlanden.

→ Zet de letters in chronologische volgorde van vroeger naar later.

2p **37** Gebruik bron 33.

Naar aanleiding van bron 33 worden drie uitspraken gedaan.

Uitspraak 1: het Ruhrgebied kon zich ontwikkelen tot industriegebied mede dankzij de ligging aan de Rijn.

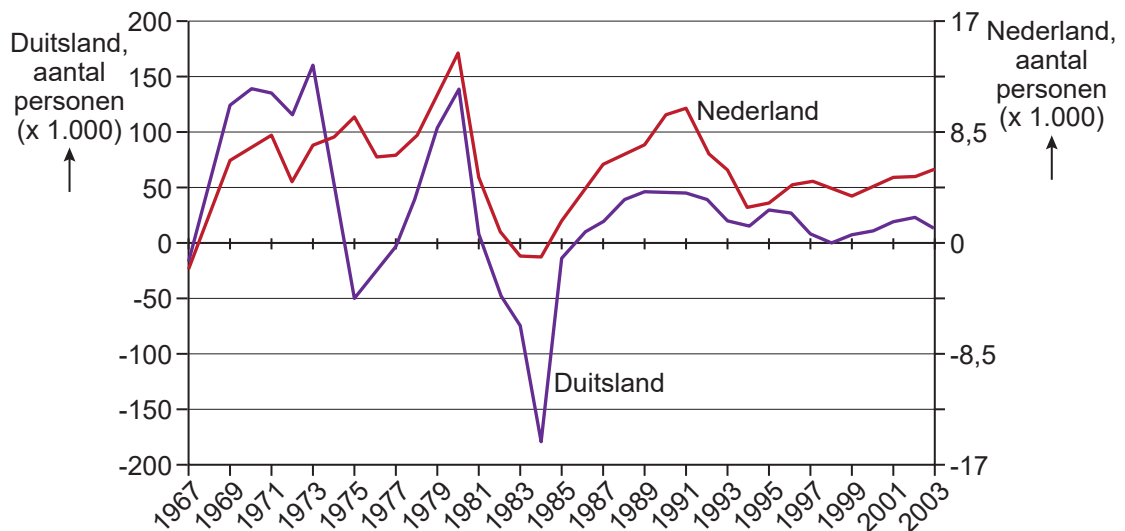
Uitspraak 2: in het Ruhrgebied is aan herinrichting gedaan.

Uitspraak 3: het Landschapspark Duisberg-Nord trekt op een normale weekdag bezoekers uit een groter gebied aan dan tijdens het muziekfestival Traumzeit.

→ Neem de cijfers 1, 2 en 3 van de uitspraken over op het antwoordblad en zet erachter of de uitspraak juist of onjuist is.

bron 34

Vestigingssaldo van Turken in Duitsland (linker y-as) en in Nederland (rechter y-as) van 1967 tot 2003



1p 38 Bekijk bron 34.

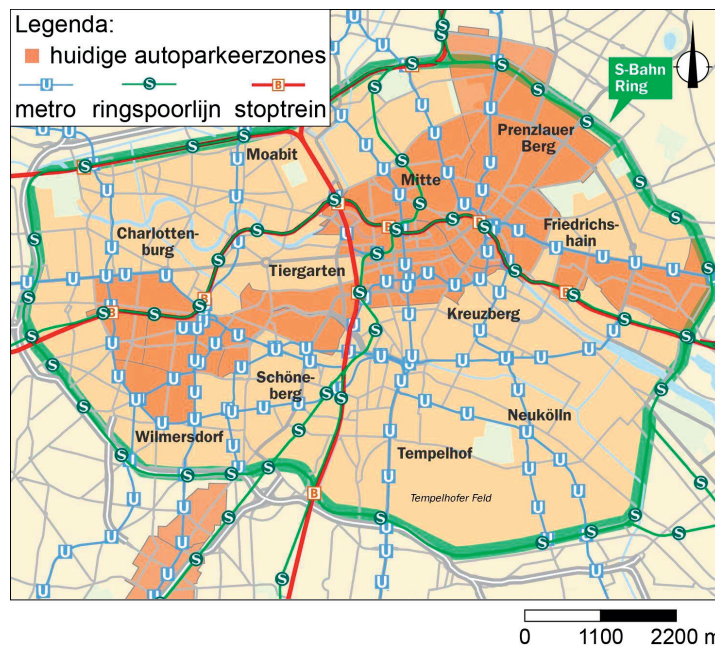
In de periode vóór 1981 hadden Turken andere motieven om naar Duitsland en Nederland te migreren dan in de periode na 1985.

Welk motief hadden zij vóór 1981 en welk motief in de periode na 1985?

	periode 1967 - 1981	periode 1985 - 2003
A	economisch motief	politiek motief
B	economisch motief	sociaal motief
C	sociaal motief	economisch motief
D	politiek motief	sociaal motief

bron 35

De binnenstad van Berlijn



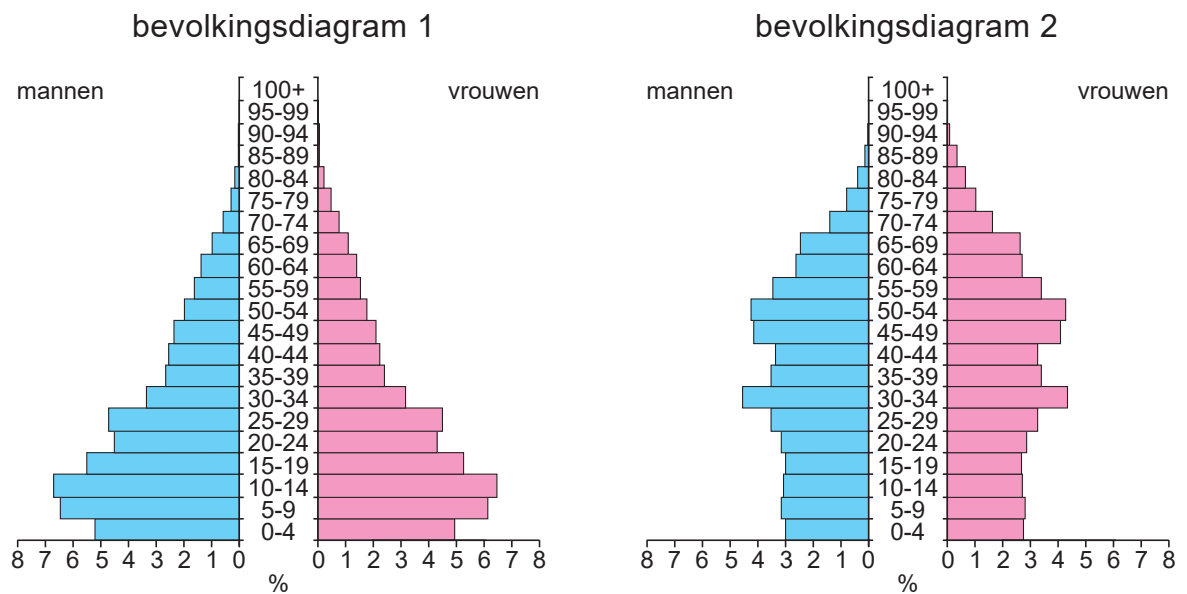
Er bestaan plannen om de binnenstad van Berlijn autovrij te maken binnen de S-Bahn-ring.

De S-Bahn-ring is een spoorlijn van 37,5 kilometer rondom de binnenstad van Berlijn. Een autovrije binnenstad zal gunstig zijn voor de leefbaarheid.

- 1p **39** Bekijk en lees bron 35.
Een autovrije binnenstad is een stuk veiliger voor fietsers en wandelaars.
→ Noem nog een verbetering voor de leefbaarheid wanneer de Berlijnse binnenstad autovrij wordt.
- 1p **40** Bekijk en lees bron 35.
Zonder auto kun je goed reizen in de Berlijnse binnenstad.
→ Geef met behulp van bron 35 een aanwijzing waaruit dit blijkt.
- 1p **41** Bekijk en lees bron 35.
Voor een autovrije binnenstad moet er een oplossing gevonden worden zodat forenzen en dagjesmensen die met de auto komen, toch de stad kunnen bezoeken.
→ Geef een mogelijke oplossing voor forenzen en dagjesmensen zodat ze de stad kunnen bezoeken.

bron 36

Twee bevolkingsdiagrammen van China



1p 42 Bekijk bron 36.

In bron 36 staan twee bevolkingsdiagrammen van China uit twee verschillende jaren. Een bevolkingsdiagram hoort bij 1980 en het andere bij 2020.

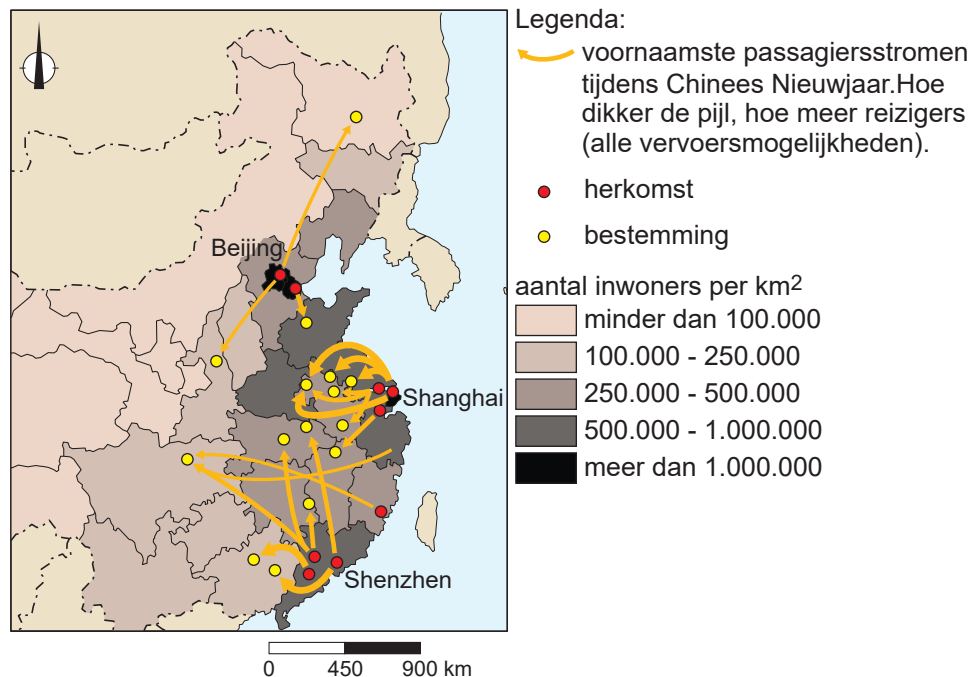
→ Beargumenteer welk bevolkingsdiagram bij het jaar 2020 hoort.

Doe het zo:

- Kies eerst **bevolkingsdiagram 1** of **bevolkingsdiagram 2**.
- Geef daarna een argument voor je keuze.

bron 37

Passagiersstromen vanuit Chinese steden tijdens Chinees Nieuwjaar, 2019



2p 43 Bekijk bron 37.

Chinees Nieuwjaar is een groot feest in China. Het feest duurt twee weken en veel mensen gaan op familiebezoek.

Naar aanleiding van bron 37 worden drie uitspraken gedaan.

Uitspraak 1: tijdens Chinees Nieuwjaar vertrekken de meeste mensen vanuit de kustgebieden naar het binnenland.

Uitspraak 2: tijdens Chinees Nieuwjaar reizen mensen heen en weer tussen de grote steden Beijing, Shanghai en Shenzhen.

Uitspraak 3: een stadshukou is niet nodig om naar familie te reizen tijdens Chinees Nieuwjaar.

→ Neem de cijfers 1, 2 en 3 van de uitspraken over op het antwoordblad en zet erachter of de uitspraak juist of onjuist is.

bron 38

Fragment uit een economisch blog

Aan de monding van de Parelrivier ligt de Chinese stad Shenzhen. De stad heeft een grote aantrekkingskracht op jonge Chinezen. Niet alleen omdat er zo veel succesvolle technologiebedrijven gevestigd zijn, maar ook omdat de leefomgeving er gunstiger zou zijn dan in veel andere grote Chinese steden.

2p **44** Lees bron 38.

Naar aanleiding van bron 38 worden drie uitspraken gedaan.

Uitspraak 1: Shenzhen is over water goed bereikbaar.

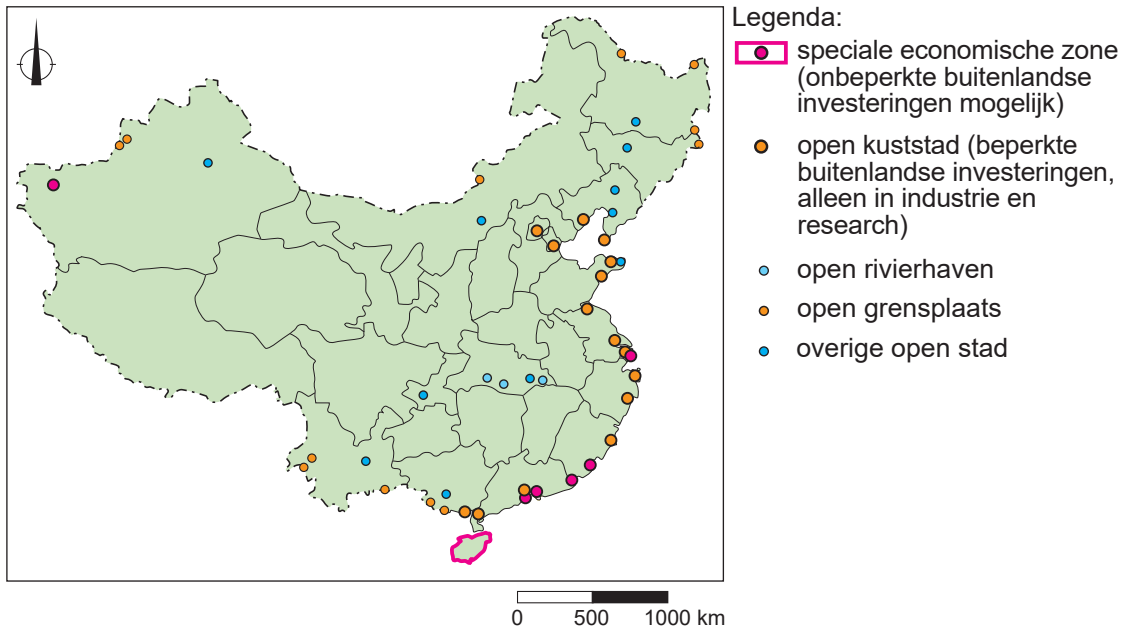
Uitspraak 2: andere grote steden in China kunnen te maken krijgen met
braindrain door de groei van het aantal technologiebedrijven in
Shenzhen.

Uitspraak 3: in Shenzhen is meer ontgroening dan gemiddeld in China.

→ Neem de cijfers 1, 2 en 3 van de uitspraken over op het antwoordblad en zet erachter of de uitspraak juist of onjuist is.

bron 39

Buitenlandse investeringen en speciale economische zones



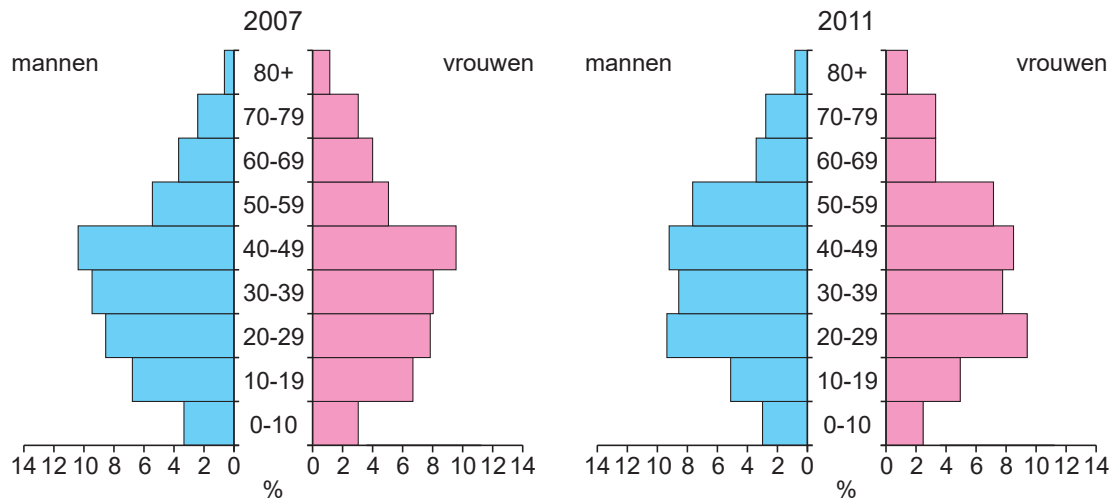
1p 45 Bekijk bron 39.

Door de gunstige ligging van de speciale economische zones en de open kuststeden zijn deze plekken erg aantrekkelijk voor buitenlandse bedrijven.

→ Geef een voordeel voor buitenlandse bedrijven om zich te vestigen in speciale economische zones en open kuststeden.

bron 40

Twee leeftijdsdiagrammen van Shanghai



Totaal 18,3 miljoen inwoners

Totaal 20,9 miljoen inwoners

1p 46 Bekijk bron 40.

In bron 40 staan de leeftijdsdiagrammen van Shanghai uit de jaren 2007 en 2011.

→ Beargumenteer of Shanghai tussen 2007 en 2011 vooral groeide door natuurlijke of door sociale bevolkingsgroei.

Doe het zo:

- Kies eerst **natuurlijke** of **sociale** bevolkingsgroei.
- Geef daarna een argument voor je keuze.

bron 41

Het '1000-bomen'-project in Shanghai



1p 47 Bekijk bron 41.

Op een nieuw gebouw in Shanghai staan 1000 bomen.

→ Geef aan waardoor het gebouw met de 1000 bomen leefbaarder zal zijn dan gebouwen in Shanghai zonder bomen.

Bronvermelding

Een opsomming van de in dit examen gebruikte bronnen, zoals teksten en afbeeldingen, is te vinden in het bij dit examen behorende correctievoorschrift.